



GUÍA N° 3 DE HISTORIA Y CIENCIAS SOCIALES

Nombre:	Curso: Segundo básico.
Objetivo: Identificar los puntos cardinales. Ubicar diversos lugares utilizando los puntos cardinales.	

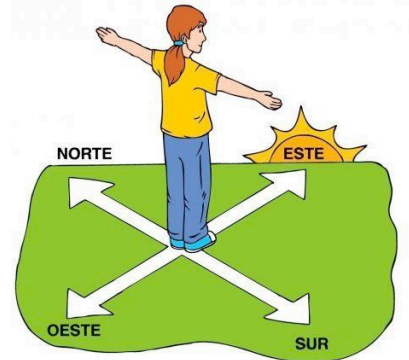
Instrucciones:

- Leer atentamente las definiciones, conceptos y ejemplos.
- Si no logra imprimir la guía, puede realizar las actividades en su cuaderno.
- Cada guía se complementa con actividades del libro del estudiante.
- Establece tiempo para realizar tus guías.
- Al final de cada guía el estudiante debe realizar una autoevaluación de las actividades realizadas.

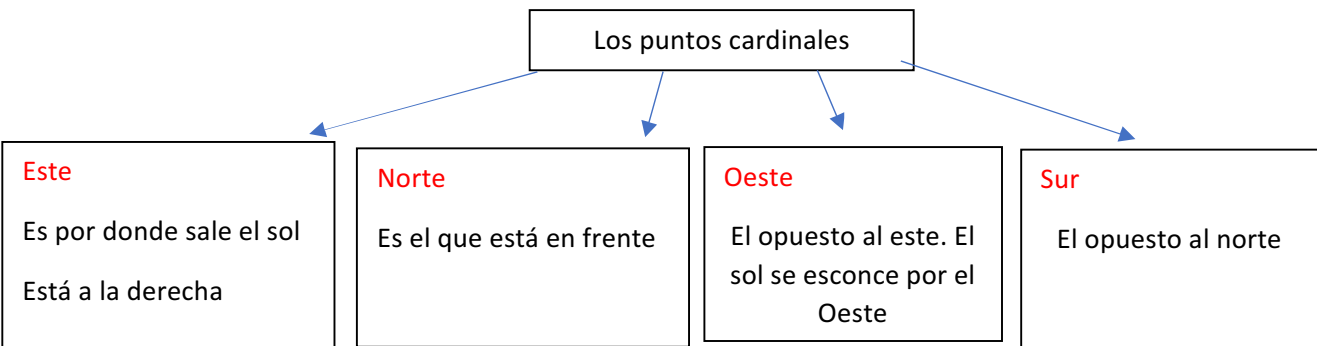
Los puntos cardinales

Los puntos cardinales son direcciones que se relacionan con la posición del Sol, nos sirven para representar la orientación en los diferentes planos, mapas y en la superficie terrestre y sirven para orientarse en cualquier parte del lugar del mundo.

Son 4 los puntos cardinales Norte – Sur – Este - Oeste
 Para ubicar los puntos cardinales podemos guiarnos por el movimiento del sol.
 El sol aparece por el este, en Chile vemos aparecer el sol por la cordillera de lo Andes. El lugar por donde los vemos esconderse es el Oeste.



¿Cómo ubicarnos con los puntos cardinales?



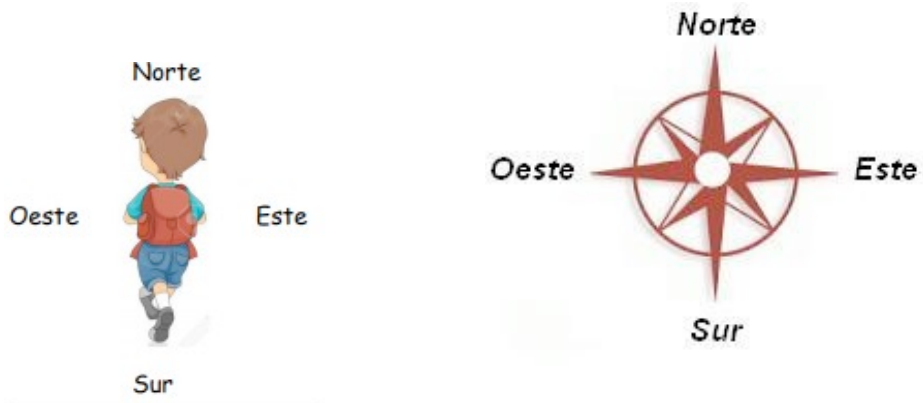
*Observe el siguiente video para complementar la información;

<https://www.youtube.com/watch?v=yvPqHalZiH8>

Recordar que el Este es por donde sale el sol y el oeste por donde se esconde el sol.

Ejercicios: Realiza la siguiente actividad.

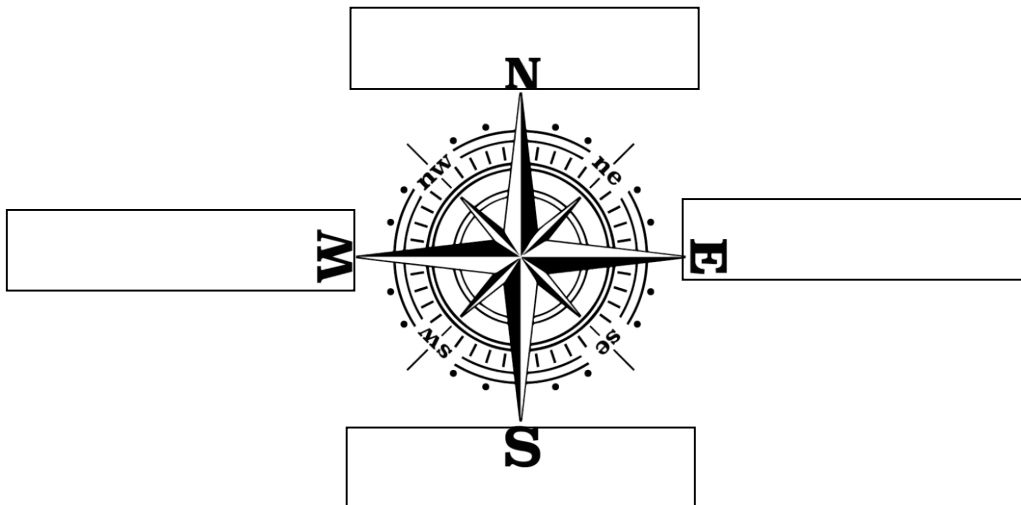
- Ubícate de pie en un lugar de tu casa, de preferencia en el patio (Mira en qué lugar está el sol para ubicar el Este o el Oeste)
- Luego establece de forma imaginaria el norte – sur – oeste y este.
- Observa e indica en voz alta que elementos esta al norte, al Oeste, Este y al sur.



1 – Responda la siguiente pregunta.

a) ¿Para qué nos sirven los puntos cardinales?

2 – Escriba en la siguiente rosa de los vientos los puntos cardinales donde corresponda.



3 – Realizar las siguientes actividades del libro del estudiante.

Página 20 y 21: (solo actividad del plano)

- Observar el plano de ambas páginas y utilizar los puntos cardinales y nombres de las calles par ubicar cada lugar o camino que debe recorrer José en la ciudad.
- Recuerde indicar la cantidad de cuadras que José debe avanzar, agregar las calles por cuales camina José e indicar los puntos cardinales adecuados para llegar al lugar que se indica.

Complete la siguiente autoevaluación.

Evalúa tu desempeño, pintando pintando el semáforo que representa tu respuesta para resolver la guía.



Logrado



Medianamente logrado



Por lograr

Indicadores	NIVEL DE DESEMPEÑO		
	L	MD	PL
Realizo mi guía de forma ordenada.	○	○	○
Identifico el orden de los puntos cardinales.	○	○	○
Reconozco ¿Para qué sirven los puntos cardinales?	○	○	○
Entrego las indicaciones correctas en el plano de la actividad del libro.	○	○	○